



Aarde en ruimte




Hoeveel sterre kan jy tel? _____

$$4 + 3 = \underline{\quad} \text{ sterre}$$

$$1 + 8 = \underline{\quad} \text{ sterre}$$

$$6 - 2 = \underline{\quad} \text{ sterre}$$

$$3 + 3 = \underline{\quad} \text{ sterre}$$



Planete:

- Son 1 2 3 4 5 6 7 8
1. Mercurius
 2. Venus
 3. Aarde
 4. Mars
 5. Jupiter
 6. Saturnus
 7. Uranus
 8. Neptunus

Watter planeet is 3de van die son af. _____

Watter planeet is 7de van die son af. _____


Watter planeet is langs die son. _____

Watter planeet is tussen Aarde en Jupiter. _____

Watter planeet is na Uranus. _____


Die rotse en stof op die maan word **REGOLIET** genoem.

Daar is geen lug op die maan nie en daar is ook geen water om te drink nie.



Die ruimtevaarders dra spesiale pakke wat vir hulle suurstof gee.

Die ruimtepak beskerm 'n ruimtevaarder teen warm en koue temperature. **Waar of onwaar.** _____



Die pendeltuig word soos 'n vuurpyl gelanseer en land soos 'n vliegtuig, helikopter, motor of lugballon.

Onthou om altyd sonskerm aan jou gesig en lyfie te smeer en 'n hoed op jou kop te dra wanneer jy in die son speel.